

Cristina Moldovan

GEOGRAFIE

Caiet de lucru pentru clasa a VII-a

Noțiuni recapitulative (geografie fizică, umană și economică)

UNITATEA 1: ASIA

1. Poziția geografică a Asiei
 2. Relieful Asiei – caracteristici generale, unități majore. Munții Himalaya
 3. Hidrografia Asiei – caracteristici generale. Fluvii și lacuri
 4. Diferențieri climatice. Musonii
 5. Contraste biogeografice
 6. Elemente de diversitate umană (diversitate etnică, lingvistică, culturală, confesională)
 7. Harta politică și marile aglomerări umane
 8. Resursele naturale
 9. Activitățile economice. Contraste economice regionale
 10. Studiu de caz: Caracterizarea unui stat asiatic
 11. Studiu de caz: Caracterizarea unui stat asiatic
 12. Asia în lumea contemporană
- Recapitulare
- Evaluare

UNITATEA 2: AFRICA

1. Poziția geografică a Africii
 2. Relieful Africii – caracteristici generale. Riftul African
 3. Hidrografia clima și biogeografia Africii
 4. Specificul demografic – Africa
 5. Harta politică și marile orașe
 6. Studiu de caz: Problemele Africii în lumea contemporană – Sahara
 7. Studiu de caz: Caracterizarea unui stat african
- Recapitulare
- Evaluare

4	UNITATEA 3: AMERICA	48
6	1. Poziția geografică a Americii	48
6	2. Relieful – caracteristici generale, unități majore. Sistemul muntos cordiliero-andin	50
6	3. Hidrografia - caracteristici generale. Fluvii și lacuri	52
8	4. Diferențieri climatice și biogeografice	54
10	5. Elemente de diversitate umană (diversitate etnică, lingvistică, culturală, confesională)	56
12		
14	6. Harta politică a Americii. Harta politică și contraste teritoriale între state	58
16	7. Forme de aglomerare urbană	59
18	8. Diferențieri economice regionale	60
20	9. Studiu de caz: Caracterizarea unui stat american	62
22	10. Studiu de caz: Caracterizarea unui stat american	63
24	Recapitulare	64
25	Evaluare	66
26	UNITATEA 4: AUSTRALIA ȘI OCEANIA. ANTARCTICA	68
28	1. Australia – caracterizare geografică generală	68
30	2. Oceania – particularități geografice	72
32	3. Antarctica – elemente de identitate geografică	74
34	Recapitulare	75
36	Evaluare	76
38	UNITATEA 5: MEDIUL ÎNCONJURĂTOR	78
40	1. Componentele mediului înconjurător și relațiile dintre acestea	78
42	2. Degradarea mediului înconjurător, o problemă a lumii contemporane. Schimbări globale ale mediului	80
44	Recapitulare	82
46	Evaluare	83
	Recapitulare finală	85
	Evaluare finală	87

Poziția geografică a Asiei • Relieful Asiei – caracteristici generale, unități majore. Munții Himalaya • Hidrografia Asiei – caracteristici generale. Fluvii și lacuri • Diferențieri climatice. Musonii • Contraste biogeografice • Elemente de diversitate umană (diversitate etnică, lingvistică, culturală, confesională) • Harta politică și marile aglomerări umane • Resursele naturale • Activitățile economice. Contraste economice regionale • Studii de caz: Caracterizarea unor state asiatice • Asia în lumea contemporană

1. Poziția geografică a Asiei

AM ÎNVĂȚAT...

1. Așezarea pe Glob

- a. **Latitudinal**, continentul Asia este situat în emisfera _____, între _____ . Dacă luăm în calcul și insulele ce îi aparțin, Asia se întinde între _____ .
- b. **Longitudinal**, Asia se întinde din emisfera _____ , de la _____ longitudine estică până în emisfera _____ , la aproximativ _____ longitudine vestică.

2. Puncte extreme ale Asiei

	Punct extrem	Coordonate	Țara
N			
S			
V			
E			

3. Asia este traversată de:

- Ecuator – trece prin _____
- Tropicul Racului – trece prin _____
- Cercul Polar de Nord – trece prin _____
- Meridianul de 180° – trece prin _____

4. Țărmurile Asiei

- a. Țărmul nordic – _____

- b. Țărmul estic – _____
- c. Țărmul sudic – _____
- d. Țărmul sud-vestic – _____

AM MAI ÎNVĂȚAT DESPRE...

I. Urmărind harta fizică a Asiei, completează spațiile libere cu răspunsul corect.

Asia este cel mai întins continent, fiind despărțit în partea sa de vest de continentul _____ prin munții _____. La Nord, Asia are ieșire la Oceanul _____ și la câteva mări mărginașe, printre care _____ și _____. În Sud, Asia are ieșire la Oceanul _____, aici aflându-se cele mai mari peninsule ale sale: _____, _____ și _____. Țărmul estic și sud-estic este dublat de o serie de insule vulcanice, printre care: _____, _____ și _____.

II. Încercuiește litera corespunzătoare răspunsului corect.

1. Extremitatea sudică a Asiei este reprezentată de:

- a.** Capul Baba **b.** Capul Celiuskin **c.** Capul Dejnev **d.** Capul Piai

2. Peninsula Arabică este traversată de:

- a.** Ecuator **c.** Tropicul Capricornului
b. Meridianul de 180° **d.** Tropicul Racului

3. Delta Gange-Brahmaputra, cea mai mare deltă a lumii, se află pe țărmul:

- a.** estic **b.** nordic **c.** sudic **d.** vestic

4. Cel mai mare arhipelag al Asiei este:

- a.** Arhipelagul Filipinez **c.** Arhipelagul Japonez
b. Arhipelagul Indonezian **d.** Arhipelagul Novaia Zemlea

5. Cea mai întinsă mare al planetei este:

- a.** Marea Arabiei **c.** Marea Galbenă
b. Marea Chinei de Sud **d.** Marea Ohoțk

III. Calculează:

- a.** pe câte grade de latitudine se întinde Asia _____
b. pe câte grade de longitudine se întinde Asia _____

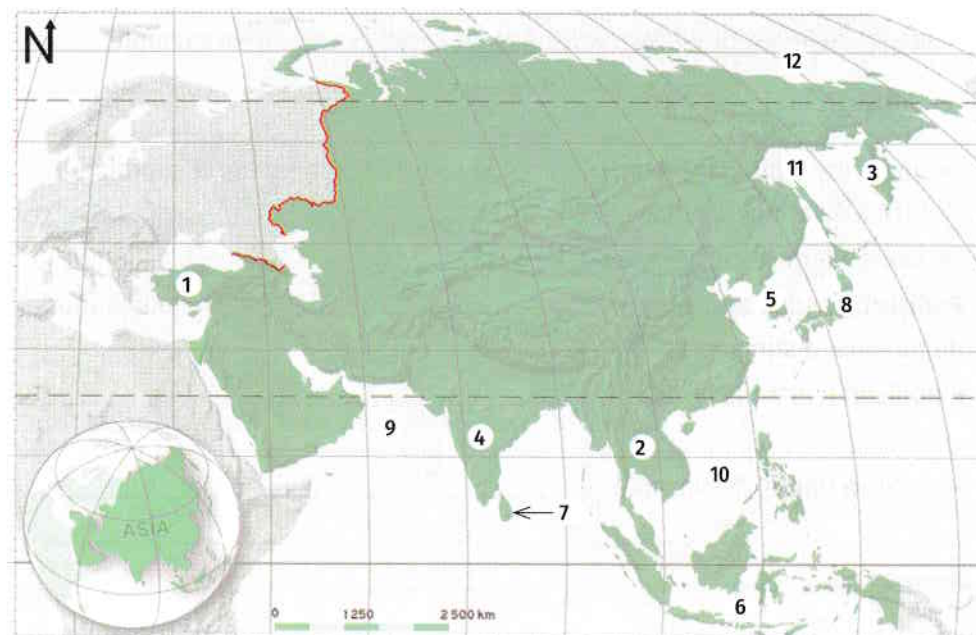
IV. Prezintă:

- a.** o consecință a așezării geografice a Asiei _____

b. o caracteristică a țărmului sudic al Asiei _____

V. Identifică, pe harta de mai jos, peninsulele marcate cu numere de la 1 la 5, arhipelagurile și insulele marcate cu numere de la 6 la 8 și mările marcate cu numere de la 9 la 12.

- | | | |
|----------|----------|-----------|
| 1. _____ | 5. _____ | 9. _____ |
| 2. _____ | 6. _____ | 10. _____ |
| 3. _____ | 7. _____ | 11. _____ |
| 4. _____ | 8. _____ | 12. _____ |



2. Relieful Asiei – caracteristici generale, unități majore. Munții Himalaya

AM ÎNVĂȚAT...

1. Caracteristici generale ale reliefului

- Relief variat
- Altitudine medie
- Altitudine maximă
- Altitudine minimă
- Adâncime maximă
- Relief complex

2. Trepte de relief

Munții – ocupă circa 32% din suprafața Asiei și sunt grupați astfel:

- un șir de munți care traversează Asia de la vest spre est, de exemplu:

- un șir de munți, orientat de la nord la sud. Vârfurile lor ies la suprafață sub formă de arhipelaguri, de exemplu:

- munți foarte vechi, de exemplu:

Podișurile ocupă aproximativ 45% din suprafața continentului și, după modul de formare, distingem:

- podișuri foarte vechi, de exemplu:

- podișuri tinere, de exemplu:

Depresiunile –

Câmpiile –

3. Tipuri de relief – Asia se caracterizează prin prezența unui relief foarte variat.

- Deșerturile și relieful deșertic:

Cele mai întinse deșerturi ale Asiei sunt:

- Vulcanii și relieful vulcanic

Exemple de vulcani:

4. Studiu de caz – Munții Himalaya

AM MAI ÎNVĂȚAT DESPRE...

I. Urmărind harta fizică a Asiei, completează spațiile libere cu răspunsul corect.

- Munții Himalaya prezintă, la altitudini de peste 5000 m, relief _____
- În nordul munților Himalaya se găsește podișul _____
- Podișul Deccan se găsește în Peninsula _____
- Câmpia Mancurierei este traversată de fluviul _____
- Tropicul Racului traversează deșerturile _____ și _____
- Podișul Anatoliei se găsește în Peninsula _____
- Vulcanul Pinatubo se găsește în Arhipelagul _____

II. Încercuiește litera corespunzătoare răspunsului corect.

- Ocupă peste 75% din teritoriul Asiei:

a. câmpiile	c. munții și câmpiile
b. munții	d. munții și podișurile
- Altitudinea maximă a Asiei este de:

a. -11000 m	c. 950 m
b. -420 m	d. 8848 m
- Munții Zagros aparțin:

a. masivelor izolate	c. șirului montan orientat nord-sud
b. niciunei categorii	d. șirului montan orientat vest-est
- Din categoria podișurilor tinere fac parte:

a. Podișul Arabiei și Podișul Iran	c. Podișul Iran și Podișul Tibet
b. Podișul Deccan și Podișul Arabiei	d. Podișul Tibet și Podișul Deccan
- Câmpiile Asiei sunt formate în cea mai mare parte prin:

a. cutarea scoarței terestre	c. sedimentare
b. eroziune	d. vulcanism

III. Explică:

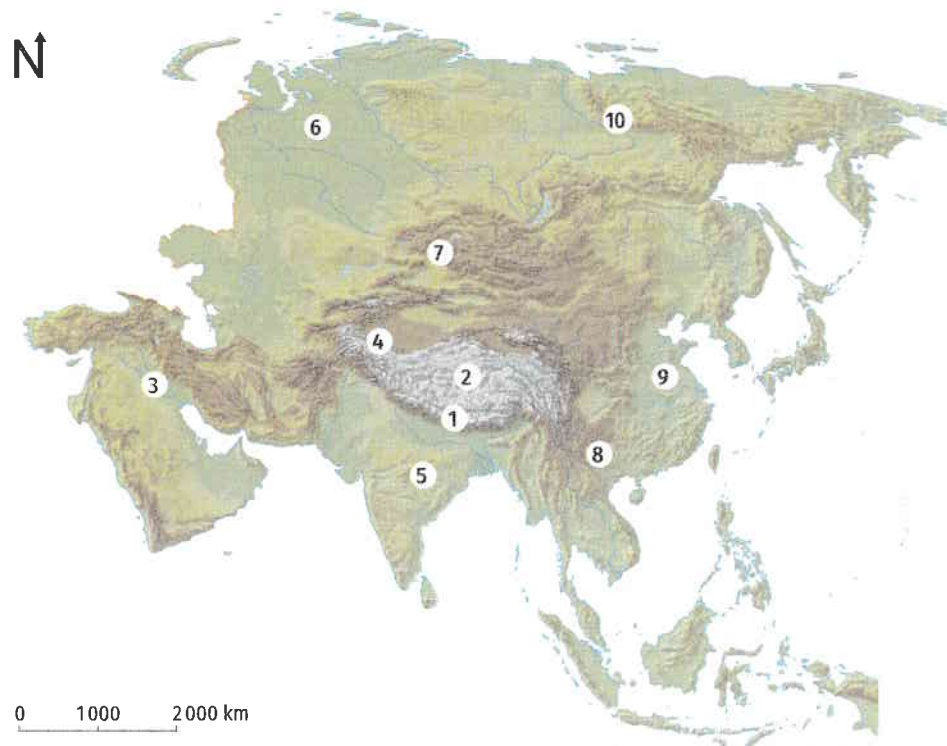
- complexitatea reliefului Asiei;

- condițiile de formare a deșerturilor Asiei;

- cauzele apariției vulcanismului în partea de est a Asiei.

IV. Identifică, pe harta de mai jos, unitățile de relief marcate cu numere de la 1 la 10.

- | | |
|----------|-----------|
| 1. _____ | 6. _____ |
| 2. _____ | 7. _____ |
| 3. _____ | 8. _____ |
| 4. _____ | 9. _____ |
| 5. _____ | 10. _____ |



3. Hidrografia Asiei – caracteristici generale. Fluvii și lacuri

AM ÎNVĂȚAT...

1. Râurile și fluviile Asiei

Caracteristicile rețelei hidrografice sunt: _____

Cel mai lung fluviu al Asiei este: _____

Fluviul cu cel mai mare debit este: _____

Cea mai mare deltă este: _____

După locul în care se varsă:

- Râuri care aparțin **regiunilor exoreice** (se varsă în Oceanul Planetar)

– Se varsă în Oceanul Indian _____

– Se varsă în Oceanul Pacific _____

– Se varsă în Oceanul Arctic _____

- Râuri care aparțin unor **regiuni endoreice** (se îndreaptă spre interiorul continentului)

– Se varsă în lacuri _____

– Se pierd printre nisipurile deșerturilor din cauza evaporării.

2. Lacurile Asiei

După originea lor, **lacurile naturale** ale Asiei sunt:

- lacuri tectonice _____

- lacuri vulcanice _____

- lacuri glaciare _____

- lacuri sărate din zonele deșertice _____

Lacuri antropice _____

AM MAI ÎNVĂȚAT DESPRE...

I. Urmărind harta hidrografică a Asiei, completează spațiile libere cu răspunsul corect.

1. Fluviile Tigru și Euftrat se varsă în Golful _____
2. Din munții Himalaya izvorăsc fluviile _____ și _____
3. Traversază Marea Câmpie Chineză fluviile _____ și _____
4. Se îndreaptă spre nord și se varsă în Oceanul Arctic sau în mările care îl mărginesc fluviile _____ și _____
5. Fluviul Mekong are gura de vărsare în Peninsula _____
6. Se varsă în Lacul Aral fluviile _____ și _____
7. În munții Himalaya se află numeroase lacuri de origine _____

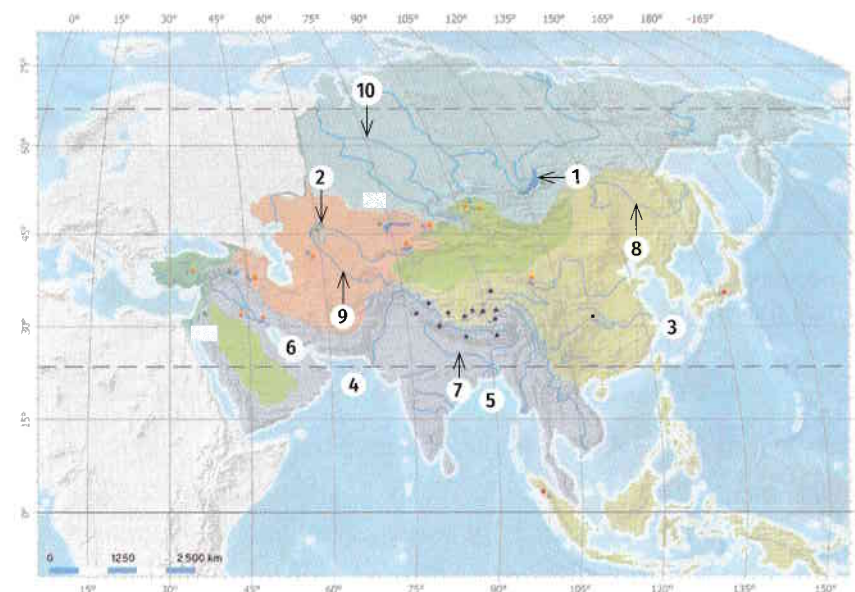
II. Încercuiește litera corespunzătoare răspunsului corect.

1. O caracteristică a rețelei hidrografice a Asiei este:
 - a. continentul cu cele mai puține ape curgătoare
 - a. densitatea mare pe toată suprafața continentului
 - b. distribuția inegală pe suprafața continentului
 - c. existența celui mai lung fluviu de pe Terra
2. Râurile care aparțin unei regiuni endoreice:
 - a. izvorăsc din zona montană
 - b. izvorăsc din zonă de câmpie
 - c. se varsă în lacuri
 - d. se varsă în Oceanul Planetar
3. Fluviul cu cel mai mare debit din Asia este:
 - a. Brahmaputra
 - b. Chang Jiang
 - c. Euftrat
 - d. Gange
4. Cel mai adânc lac tectonic este:
 - a. Aral
 - b. Baikal
 - c. Balhaș
 - d. Marea Moartă
5. Sanxia este un lac:
 - a. antropic
 - b. glaciari
 - c. tectonic
 - d. vulcanic

III. Informează-te pe internet și completează tabelul de mai jos.

Fluviul	Izvor	Vărsare	Debit	Lungime
Brahmaputra				
Chang Jiang				
Enisei				
Gange				
Obi				

IV. Identifică, pe harta de mai jos, lacurile marcate cu numerele 1 și 2, mările sau golfulurile marcate cu numere de la 3 la 6 și fluviile marcate cu numere de la 7 la 10.



- | | |
|----------|-----------|
| 1. _____ | 6. _____ |
| 2. _____ | 7. _____ |
| 3. _____ | 8. _____ |
| 4. _____ | 9. _____ |
| 5. _____ | 10. _____ |